



وزارة التربية

إدارة الشؤون التعليمية
مؤقبة الامتحانات وشؤون الطلبة



نموذج الإجابة

المرحلة المتوسطة

(كامل المنهج)

إختبارات الدور الثاني

المادة : الاجتماعيات

الصف : التاسع

العام الدراسي

2018 / 2017



وزارة التربية

منطقة مبارك الكبير التعليمية

التوجيه الفني للإجتماعيات

امتحان المنهج الكامل

لمادة الكويت والعالم

للفص التاسع

((نموذج الإجابة))

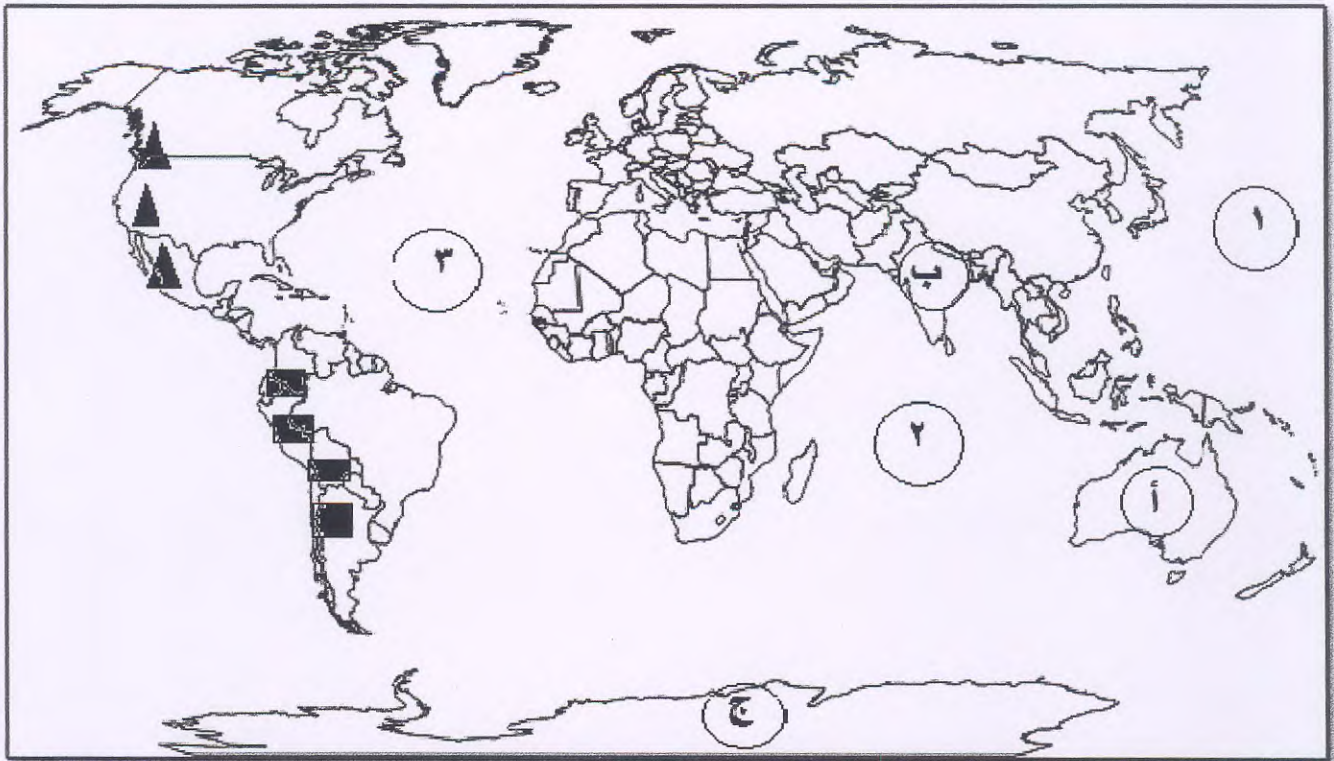
العام الدراسي : ٢٠١٧ - ٢٠١٨ م

الزمن : ساعة وخمس وأربعون

عدد الأوراق : ٦

السؤال الأول : موضوعي و يتكون من (أ - ب - ج - د - هـ - و) :- $٥ \times ٥ = ٥$ درجة

أ) لاحظ خريطة العالم التي أمامك ثم نفذ ما هو مطلوب منك :



- المحيط الهندي يمثله على الخريطة الرقم (١) ص ٣٢
- الهند يمثله على الخريطة الحرف (ب) ص ٨٩
- القارة القطبية الجنوبية يمثله على الخريطة الحرف (ج) ص ٧٩
- القارة التي تمتاز بوجود أكبر حاجز مرجاني في العالم يمثله على الخريطة الحرف (أ) ص ٨٥
- جبال الأنديز يمثله على الخريطة الرمز (■) ص ٨١

ب) صنف مصادر الطاقة كما هو مطلوب منك في الجدول : $٥ \times ٥ = ٥$

١- (الأرض - المريخ - عطار - الزهرة - أورانوس)

الكواكب الغازية ص ٢٠	الكواكب الصخرية ص ١٩
أورانوس	الأرض - عطار - الزهرة - المريخ

تابع / السؤال الأول (موضوعي) :-

ج) اختر الإجابة الصحيحة للعبارات التالية من بين الخيارات التي تلي كلا منها وضع خطا تحتها :-

- ١- تدور الأرض حول نفسها دورة كاملة كل . ص ٢٥
 أ- ٢٤ ساعة ب- ٢٥ ساعة ج- ٢٦ ساعة د- ٢٧ ساعة
- ٢- المرحلة التي استطاع الإنسان أن يحدث تغيرات كبيرة في البيئة وأصبح مالك زمام الأمور . ص ٥٦
 أ- الثانية ب- الثالثة ج- الرابعة د- الخامسة
- ٣- أكثر قارة من حيث عدد السكان . ص ٨٢
 أ- أفريقيا ب- آسيا ج- أوروبا د- استراليا
- ٤- العام الذي دخلت فيه الولايات المتحدة الأمريكية الحرب العالمية الأولى . ص ١١٧
 أ- ١٩١٤ م ب- ١٩١٥ م ج- ١٩١٦ م د- ١٩١٧ م
- ٥- شكل من أشكال السلطة يكون الحكم بمقتضاه بيد الشعب . ص ١٠٤
 أ- النازية ب- السيادة ج- الديمقراطية د- الدولة

د) أكتب المفاهيم أو المصطلحات الدالة على العبارات التالية :- ١ × ٥ = ٥ درجة



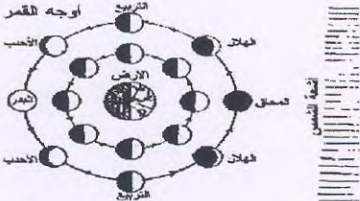

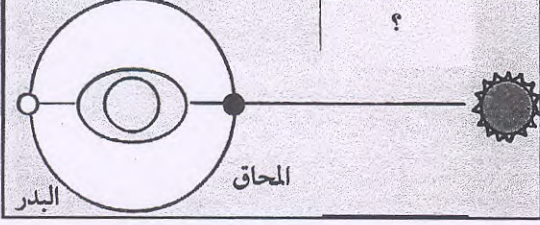
١- السدم	ص (١٦)	سحابات كونية غازية متوهجة تتخلل المجرات .
٢- الطاقة	ص (١٢٨)	القوى المحركة للأزمة لإدارة الآلات .
٣- التكافل الإجتماعي	ص (١١٠)	النظام الذي يقوم على التفاعل والإعالة بين الأعضاء في مجتمع من المجتمعات.
٤- عصر النهضة	ص (١١٥)	عصر التغيرات الكبيرة في كل ميادين الحياة المادية والفكرية .
٥- التعاون الدفاعي	(١١٠)	تعاون أفراد المجتمع في مواجهة الكوارث .

هـ) أكمل العبارات التالية بما يناسبها : ١ × ٥ = ٥ درجة

- ١- المجرة التي ينتمي إليها كوكب الأرض تسمى (مجرة درب التبانة - الطريق اللبني) ص ١٧
- ٢- تبلغ نسبة مساحة الماء على الكرة الأرضية حوالي (٧١%) ص ٣٢
- ٣- الرحالة الذي وصل الى الهند يسمى (فاسكو دي جاما) ص ٨٨
- ٤- الموارد الطبيعية التي لا يخشى عليها من النفاذ تسمى (الموارد المتجددة) ص ٦٧
- ٥- العام الذي تم فيه الإستيلاء على ممر دانزج البولندي (١٩٣٩ م) ص ١٢٤

تابع / السؤال الأول (موضوعي) :-

و (ضع عنوانا مناسباً للصور والأشكال التي أمامك :- $١ \times ٥ = ٥$)

	<p>١- التلال ص ٣٤</p>	
	<p>٢- شعار الأمم المتحدة ص ١٢٨</p>	
	<p>٣- أوجه القمر في دورانه حول الأرض منازل القمر ص ٢٩</p>	
	<p>٤- زعيم الفاشية في إيطاليا موسوليني ص ١٢٢</p>	
	<p>٥- المد العالي ص ٣٠</p>	

السؤال الثاني : (مقال) يتكون من (أ - ب - ج) :-

أ) اقرأ الفقرة التالية ثم اجب عما يليها من أسئلة :-

" يتكون **الغلاف الجوي** من غاز النيتروجين حيث يمثل ذلك الغاز حوالي ٧٨% من مكونات الغلاف الجوي ثم يأتي غاز الاوكسجين بنسبة ٢١% ثم تأتي مجموعة من الغازات الاخرى مثل ثاني اكسيد الكربون والهيليوم والارجون والنيون والهيدروجين لتمثل النسبة الباقية في تكوين الغلاف الجوي لكوكب الارض ، يحمي الغلاف الجوي سطح الأرض من تساقط بقايا الشهب والنيازك من الفضاء الخارجي . "

- فسر ما تحته خط : ص ٣٧ (درجة)
- الغلاف الجوي : هو عبارة عن غطاء سميك من الغازات يحيط بالكرة الأرضية من جميع الجهات متأثراً بقوة جاذبيتها .
- عدد أهمية الغلاف الجوي . (٣ درجات)
- يحمي الغلاف الجوي سطح الكرة الأرضية من تساقط بقايا الشهب والنيازك من الفضاء الخارجي .
- تنعدم الحياة على سطح الأرض بدون الغلاف الجوي ، حيث أن الهواء هو مصدر تكوين السحب والغيوم وهبوب الرياح والأمطار - يعتمد عليه الإنسان والحيوان في عملية التنفس لاحتوائه على الأكسجين .

ب) اكتب اثنين فيما يلي :

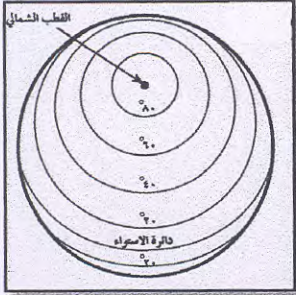
- ١- العناصر المؤثرة في الطقس والمناخ . ص ٤١ درجتان
- درجة الحرارة - الضغط الجوي - الرياح - الأمطار . (يكتفى بنقطتين)
- ٢- الآثار المناخية المترتبة على ظاهرة الاحتباس الحراري . ص ١٣٤ درجتان
- ارتفاع درجة حرارة سطح الأرض مع ازدياد الملوثات الهوائية - نوبان الجليد في المناطق القطبية والمرتفعات الجبلية مما يؤدي لحدوث الفيضانات وارتفاع مناسيب مياه الأنهار والبحار والمحيطات - حدوث الجفاف والتصحر في بعض المناطق .

ج) علل لما يأتي :

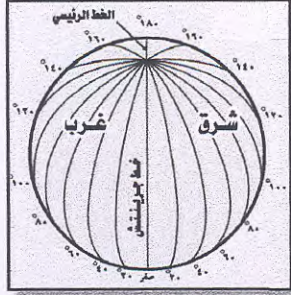
- ١- اختلاف الحرف والأنشطة الاقتصادية بين الدول . ص ٦٩ (درجة - يكتفى بنقطة)
- تنوع الموارد الطبيعية - اختلاف الظروف الحضارية والعلمية والتكنولوجية بين الدول .
- ٢- إنشاء منظمة عصبة الأمم في أعقاب الحرب العالمية الأولى . ص ١٢٦ درجة
- لحفظ السلام والأمن بين الدول .

السؤال الثالث : (مقال) يتكون من (أ - ب - ج) :-

أ) لاحظ الشكل التي أمامك ثم أجب عن الأسئلة التي تليها :- ص ٢٢ - ٢٣



(ب)



(أ)

- ١- الشكل (أ) يسمى : خطوط الطول (نصف درجة)
- ٢- الشكل (ب) يسمى : دوائر العرض (نصف درجة)
- ٣- قارن بين كلا من (أ - ب) كما هو مبين في الجدول

وجه المقارنة	أ	ب
العدد الإجمالي	٣٦٠ (نصف درجة)	١٨٠ (نصف درجة)
الأهمية	تعيين الزمن (درجة)	تقسيم الكرة الأرضية الى مناطق حرارية (درجة)

ب) النتائج المترتبة على كل من :

- ١- عقد مؤتمر الصلح في قصر فرساي في باريس عام ١٩١٩ م . ص ١١٩ درجتان (يكتفى بنقطتين)
- اختفاء أربع امبراطوريات عريقة (الألمانية - الروسية - النمساوية - التركية) - فرض غرامة مالية كبيرة على الدول المهزومة - فرض القيود على الجيش والأسطول الألماني من حيث العدد والتسلح وفقدان ألمانيا لأجزاء من أراضيها وتجريدها من كافة مستعمراتها .
- ٢- الدورة الأهليلجية للأرض حول الشمس . ص ٢٧ درجتان
- تعاقب الفصول الأربعة - اختلاف طول الليل والنهار .

ب) عرف مايلي :

- ١- الأوج : أبعد نقطة عن الشمس تصل إليها الأرض في مدارها . ص ٢٧ درجة
- ٢- الأسطول : مجموعة من السفن . ص ٩٤ درجة

السؤال الرابع : (مقال) يتكون من (أ - ب - ج) :-

أ (قارن بين كلا من :- ص ٣١ (٤ درجات)

وجه المقارنة	خسوف القمر	كسوف الشمس
التعريف	وقوع القمر في مخروط ظل الأرض أو شبه ظلها .	يحدث للشمس عندما يقع القمر بين الأرض والشمس ويكون الثلاث على خط مستقيم فيجب القمر نور الشمس عن الأرض ويقع ظله عليها .
الرسم		

ب (اكتب فيما يلي :-

- ١- دور الكويت الفاعل على المستوى العربي . ص ١٥١ درجتان يكتفى بنقطتين
- انضمت الكويت لجامعة الدول العربية منذ استقلالها ١٩٦١م - تأسيس مجلس التعاون الخليجي - الوقوف بجانب الشعب الفلسطيني والالتزام بدعم حقة المشروع في نيل كافة حقوقه - الإهتمام بمشكلة دارفور في السودان والوقوف مع الجهود لوقف تدهور الأوضاع بما يحقق استقرار السودان - استضافة المؤتمر الموسع الثالث لوزراء خارجية دول جوار العراق في ٢٢ ابريل ٢٠٠٨ م .
- ٢- أسباب تلوث التربة . ص ٦٤ درجتان يكتفى بنقطتين
- استخدام المبيدات الحشرية بهدف مقاومة الآفات الزراعية - استخدام الأسمدة الكيماوية بغرض تعويض نقص الأسمدة الطبيعية في التربة - المخلفات الصناعية والكيماوية والبشرية .

ج (أجب عما يلي :-

- ١- مقومات قيام الصناعة . ص ٧١ درجتان يكتفى بنقطتين
- توافر المواد الخام الأولية للصناعة - توافر الطاقة اللازمة لتحريك الآلات والمعدات الصناعية - وفرة الأيدي العاملة - توفر راس المال - وجود الأسواق - وسائل النقل .